

# CONCOURS D'ENTREE A L'EAMAU

SESSION DE MAI 2003

---

FILIERE ARCHITECTURE - URBANISME ET  
TECHNICIEN SUPERIEUR EN GESTION URBAINE

---

EPREUVE DE GEOGRAPHIE

DUREE : 1 H

- 1- Combien d'océans et de mers entourent le continent africain ? Citez - les.
- 2- Définir les indicateurs suivants :  
Taux de natalité  
Taux de mortalité  
Taux d'urbanisation
- 3- Donner la capitale, la population et la superficie des pays suivants :  
Côte d'Ivoire  
Bénin  
Nigéria  
Burkina Faso
- 4- Il existe en Afrique des villes précoloniales, des villes coloniales, des villes nouvelles. Citer une ville de chacun de ces trois types.

## **CONCOURS D'ENTREE A L'EAMAU**

SESSION DE MAI 2005

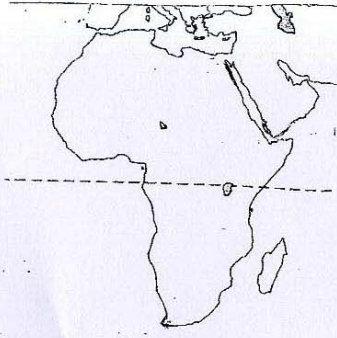
.....  
**FILIERE : ARCHITECTURE – URBANISME**  
.....

### **EPREUVE DE GEOGRAPHIE**

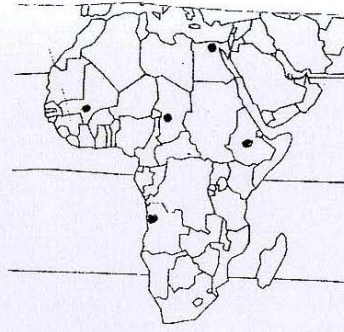
Durée : 1 heure

1. Sur le fond de carte d'Afrique n°1, placez les éléments hydrographiques suivants : le fleuve Congo, l'Orange, le fleuve Niger, le Nil. (2 points)
  2. Sur le fond de carte d'Afrique n°2, quelques points de grandes villes sont marqués. Donnez le nom de ces villes et celui des pays correspondants. (5 points)
  3. Complétez la rose des vents en plaçant au bon endroit les points cardinaux manquants pour mieux vous orienter. (3 points)
  4. Sur le planisphère portant les noms des grandes villes ( carte n°3), nommez les continents et les océans qui les entourent. (5 points)
  5. Sur le planisphère (carte n°4), identifiez à l'aide de hachure ou d'une couleur deux pays lusophones\* d'Afrique. (2 points)  
Donnez le nom officiel, la capitale et la population totale de chacun de ces deux pays. (3 points)
- \* Pays lusophone : pays de langue portugaise.

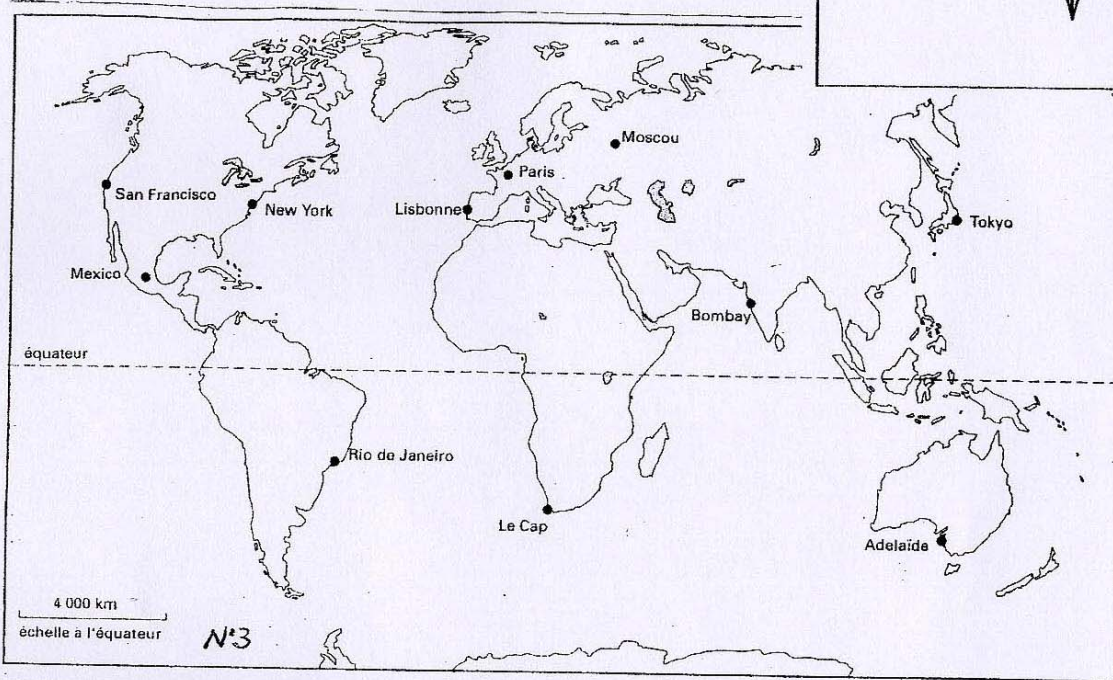
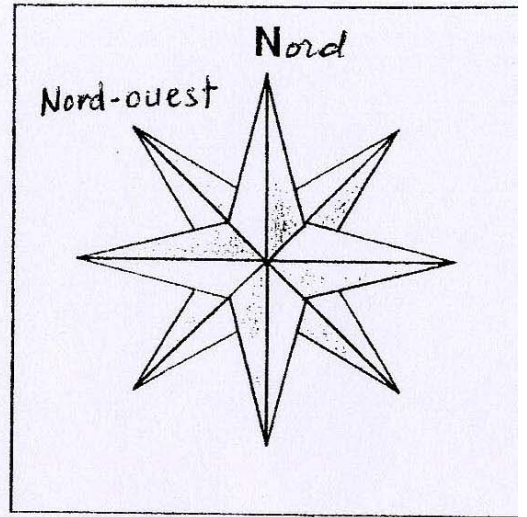
↳ orienter par les points  
cardinaux



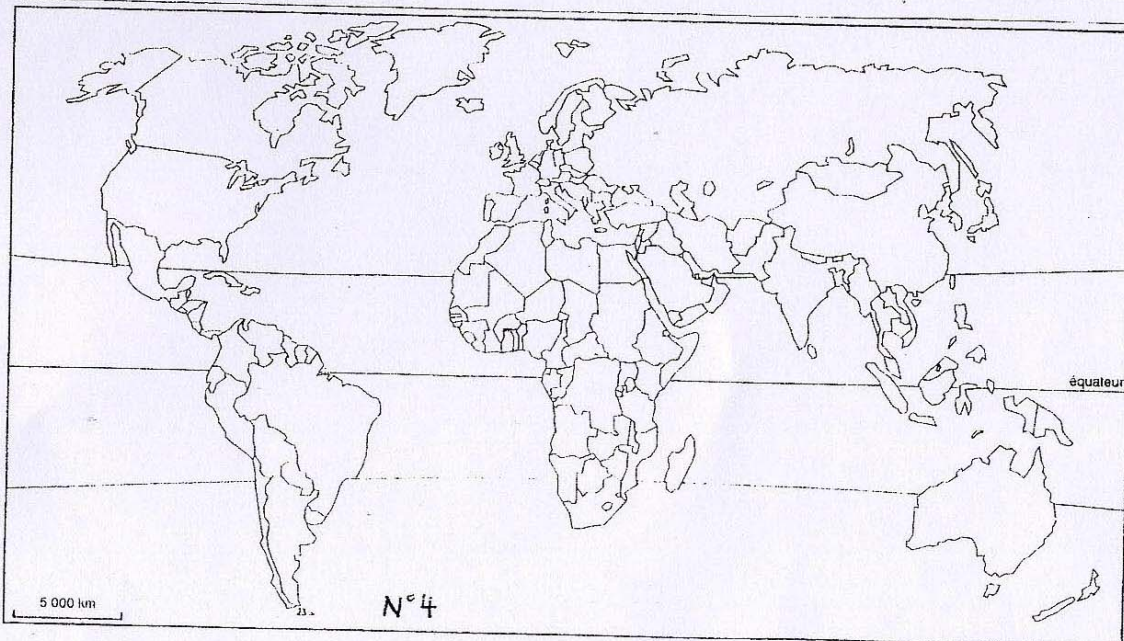
N°1



N°2



N°3



N°4